


Wissensblatt vom Fuchs

Zahlen und Mengen



Man kann Zahlen und Mengen in verschiedenen Formen darstellen.
Hier siehst du verschiedene Möglichkeiten:

➤ **Du kannst sie mit den Fingern zeigen:**


Das geht aber alleine nur gut bis zur 10, weil du 10 Finger hast.

Wenn du ein kleiner Profi bist, kannst du Mengen mit verschiedenen Fingern zeigen!

Das ist 4:



Die 4 kann man aber auch mit zwei Händen zeigen:




➤ **Du kannst eine Menge als Ziffer schreiben:**

Ziffern sind ein Symbol für Zahlen, wie Buchstaben für einen Laut den du sprichst


0 1 2 3 4 5 6 7 8 9 10

➤ **Du kannst sie mit Würfelaugen zeigen:**

Das geht mit einem Würfel bis zur Zahl 6, danach brauchst du 2 Würfel und musst alle Würfelaugen zusammen zählen.



1



2



3




4




5




6




7



8



9



10

➤ **Du kannst sie mit gemalten Gegenständen zeigen:**

Wir malen es natürlich mit Quadraten.



1



2



3
























4



5

Probier es hier gleich mal aus:

Finger	Ziffer	Würfelaugen	Menge
	1		
			
			
			
			
			
			
			
			
			

Hier kannst du die Mengen zählen und die richtige Ziffer dazu schreiben.
Mache am besten einen Kreis um die Tiergruppe und zähle sie zusammen.
(Wenn du alles richtig gezählt hast, gibt es jede Zahl einmal von 1-10)

